

Probeunterricht 2023 an Wirtschaftsschulen in Bayern

PU 7 Mathematik

Aufgabenteil 1	Seiten 1 bis 7	30 Minuten	20 Punkte
Aufgabenteil 2	Seiten 8 bis 13	40 Minuten	30 Punkte
Unterrichtsgespräch		20 Minuten	Schulnote

Vorname: Nachname:

Bewertung (Erstkorrektor)		Bewertung (Zweitkorrektor)	
Punkte Teil 1	(von 20)	Punkte Teil 1	(von 20)
Punkte Teil 2	(von 30)	Punkte Teil 2	(von 30)
Summe	(von 50)	Summe	(von 50)
Note		Note	
Note schriftlicher Teil			
Note Unterrichtsgespräch			
Gesamtnote (schriftlich : mündlich = 2 : 1)			
..... Unterschrift (Erstkorrektor)	 Unterschrift (Zweitkorrektor)	

Hinweise:

- Bei allen Aufgaben muss der Lösungsweg nachvollziehbar sein!
- Zugelassene Hilfsmittel: Teil 1: keine
Teil 2: keine

Aufgabenteil 1

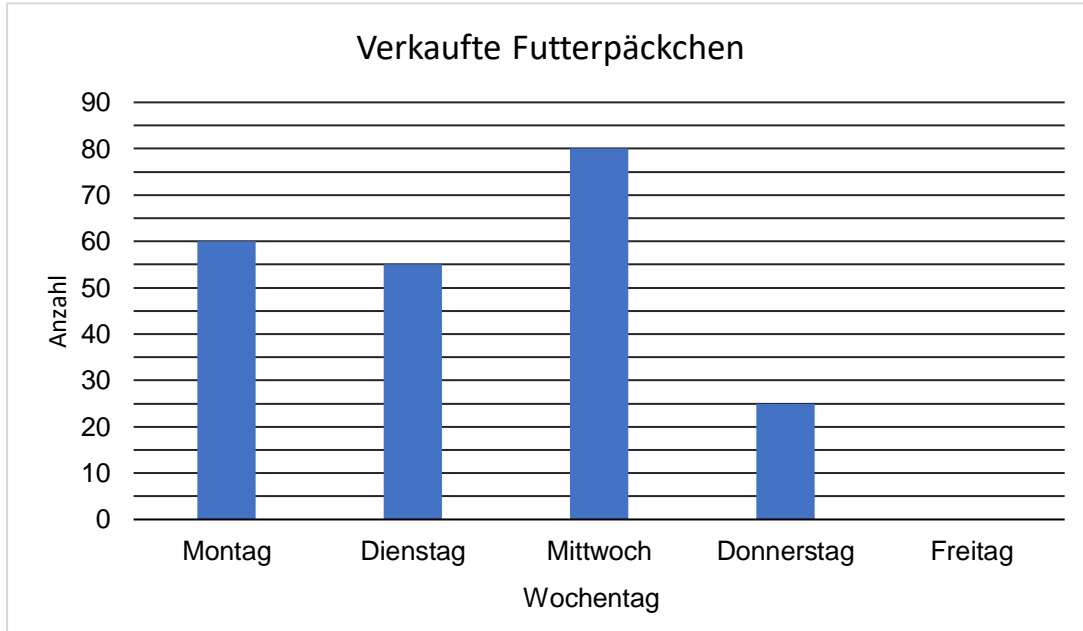
Vorname: Nachname:

Arbeitszeit Teil 1: 30 Minuten

Maximale Punktzahl: 20 Punkte

Hilfsmittel: keine

- 4 Im Streichelzoo befindet sich ein Automat mit Futterpäckchen. Am Montagmorgen wird der Automat komplett aufgefüllt. Es befinden sich dann 295 Futterpäckchen im Automaten. Folgendes Diagramm zeigt die verkauften Futterpäckchen pro Tag.




- 4.1 Wie nennt man obiges Diagramm?

___/1

- 4.2 Nenne einen Grund für die geringe Anzahl der verkauften Futterpäckchen am Donnerstag.

___/1

- 4.3 Am Freitagabend waren alle 295 Päckchen verkauft. Berechne die Anzahl der verkauften Päckchen am Freitag und ergänze das obige Diagramm.



___/2

Aufgabenteil 2

Vorname: Nachname:

Arbeitszeit Teil 2: 40 Minuten

Maximale Punktzahl: 30 Punkte


Hilfsmittel: keine

3 Gib jeweils in der angegebenen Einheit an.

7 kg 250 g = _____ g

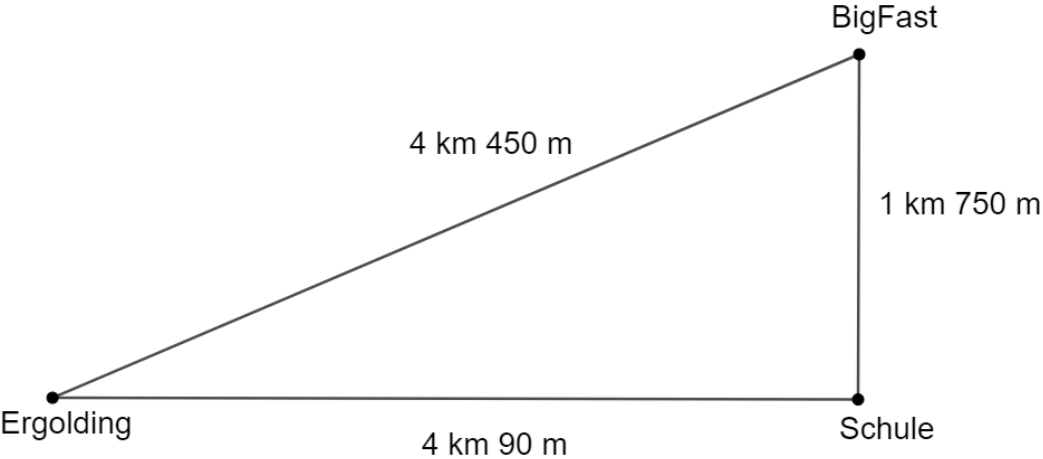
13 m 10 cm = _____ dm

4 min 16 sek = _____ sek




___/3

4 Hans fährt täglich mit dem Fahrrad von Ergolding zur Wirtschaftsschule in Landshut. Wegen Bauarbeiten muss er für drei Tage einen Umweg über das Fastfood-Restaurant „BigFast“ nehmen – siehe Skizze.



Berechne, um wie viele Meter sein Hin- und Rückweg pro Tag länger ist.



___/3

